

***RIORDINA LE SEGUENTI FRASI (parti dal verbo per aiutarti).***

IL CACCIA LEONE ANTILOPE LA SAVANA NELLA.

AL INZUPPO MATTINO I CAFFÈ NEL BISCOTTI.

NODI AL VENGONO TUTTI PETTINE I.

LA PIERINO SGRIDA MAMMA FATTO NON PER I COMPITI AVER.

LE SQUISITO PRODUCONO API MIELE UN.

MURANO NEL MONDO FAMOSA È PER VETRO IL.

BOSGNA PER BIGLIETTO SALIRE VAPORETTO IN OBLITERARE IL.

SE PERSONE TEMPO NON GIUDICHI LE AVRAI AMARLE PER.

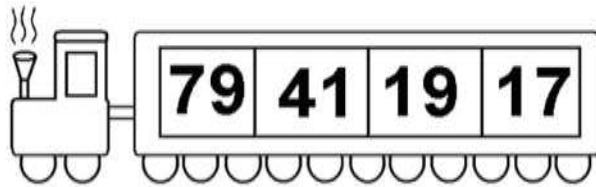
OCCHIO RENDE CIECO PER OCCHIO MONDO IL.

NON ASPETTO DALL' GIUDICA SI PERSONA UNA.

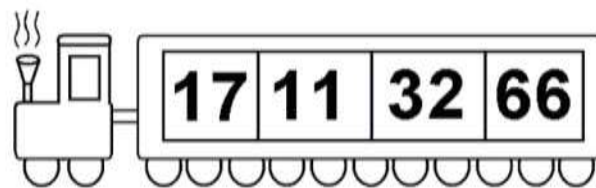
## ***COSA HANNO IN COMUNE QUESTE COPPIE DI PAROLE?***

- BANANA E LIMONE
- JEANS E MAGLIONE
- FORNO E LAVATRICE
- BALENA E DELFINO
- SHAMPOO E DENTIFRICIO
- TRENO E ELICOTTERO
- MARGHERITA E GIRASOLE
- ZIO E CUGINA
- PENTOLA E BARATTOLO
- COLLA E CHiodo
- GIACCA E COPERTA
- CRISTIANO ED EBREO

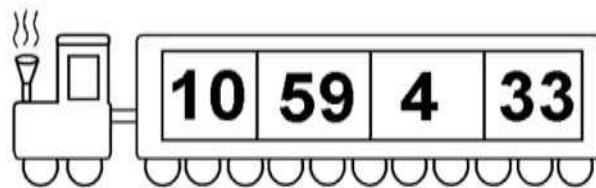
Riscrivi i numeri dal più piccolo al più grande



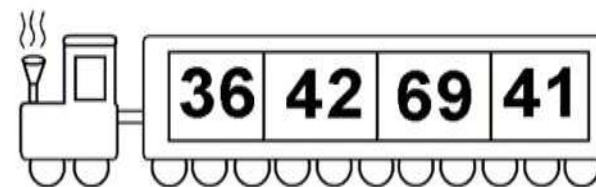
--	--	--	--



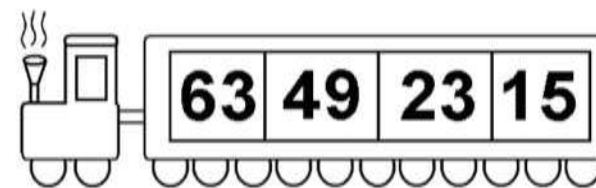
--	--	--	--




--	--	--	--




--	--	--	--



--	--	--	--



--	--	--	--



--	--	--	--

# AGGIUNGI - TOGLI

SCRIVI NELLA CASELLA VUOTA IL NUMERO DA AGGIUNGERE

24	+	= 30
21	+	= 30
27	+	= 30
29	+	= 30

28	+	= 30
25	+	= 30
23	+	= 30
20	+	= 30

33	+	= 40
36	+	= 40
30	+	= 40
31	+	= 40

37	+	= 40
32	+	= 40
35	+	= 40
34	+	= 40

SCRIVI NELLA CASELLA VUOTA IL NUMERO DA TOGLIERE.

30	-	= 22
30	-	= 25
30	-	= 30
30	-	= 20






















30	-	= 27
30	-	= 23
30	-	= 29
30	-	= 21

40	- 9	= 31
40	- 2	= 38
40	- 5	= 35
40	- 7	= 33

40	-	= 37
40	-	= 34
40	-	= 39
40	-	= 40

# Il reticolo

- Osserva il reticolo e scrivi cosa si trova nelle caselle indicate.

	A	B	C	D	E	F	G
1							
2							
3							
4							
5							
6							
7							

A-1= .....  
 C-3= .....  
 E-4= .....  
 E-6= .....  
 F-2= .....  
 A-6= .....  
 B-3= .....

G-7= .....  
 E-1= .....  
 C-5= .....  
 D-5= .....  
 D-4= .....  
 G-4= .....  
 A-7= .....

G-1= .....  
 C-6= .....  
 F-5= .....  
 D-7= .....  
 C-1= .....  
 G-5= .....  
 D-2= .....

- **Obiettivo didattico:** individuare la posizione degli elementi utilizzando il reticolo.



