






















Il reticolo

- Osserva il reticolo e scrivi cosa si trova nelle caselle indicate.

	A	B	C	D	E	F	G
1							
2							
3							
4							
5							
6							
7							

- | | | |
|------------|------------|------------|
| A-1= | G-7= | G-1= |
| C-3= | E-1= | C-6= |
| E-4= | C-5= | F-5= |
| E-6= | D-5= | D-7= |
| F-2= | D-4= | C-1= |
| A-6= | G-4= | G-5= |
| B-3= | A-7= | D-2= |


- Obiettivo didattico: individuare la posizione degli elementi utilizzando il reticolo.

NOME: _____

DATA: _____

CA - CO - CU - CI - CE
 Risolvi il cruciverba


Leggi le
 definizioni...



			1						T	T		
				2							C	
3									G	L		
			4							T	T	
				5						C		
									L	L		
8											T	
			7						P			
8										C		
				9					M			
10					S				C			
										11		
12					S				T			

- 1 Si utilizza per le sbucciature.
- 2 E' un insetto...puzza se la schiacci.
- 3 Ha le orecchie lunghe. Mangia carote.
- 4 Quella dei 7 nani è nel bosco.
- 5 Striscia e ha le corna. Esce quando piove.
- 6 Hanno gli strati. Se le tagli ti lacrimano gli occhi.
- 7 Servono per coprirsi.
- 8 Il contrario di triste.
- 9 Si indossa sotto la giacca.
- 10 E' morbido. Si trova sul letto o sul divano.
- 11 Non è salato.
- 12 Si trovano sulla spiaggia. Sono fatti di sabbia.

...e completa
 il cruciverba!



NOME: _____ DATA: _____

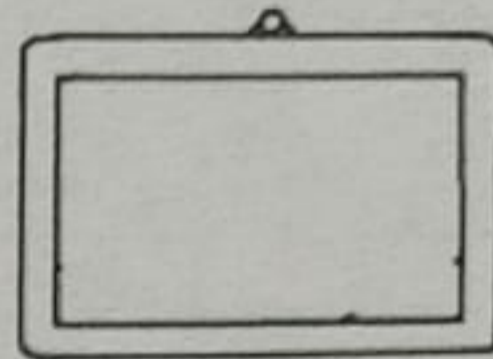
CE·GE, GE·GHE, CHE·GHE

🍄 Completa con CE o GE.

- vo.....
-lato
- pa.....
-lsomino
-loso
-nnaio
- cali.....
- cami.....




- guan.....
- boc.....
-lso
-nte
-lo
- corni.....
-ngive
- frec.....



🍄 Completa con GE o GHE.

- an.....lo
- pian.....re
- pie.....
- ru.....
- tartaru.....
- spin.....re
- pun.....re
- lun.....




- lar.....
- dipin.....re
- leg.....re
- spi.....
- su.....ro
- pia.....
- tin.....re
- strin.....



🍄 Completa con CHE o GHE.


- mani.....
- orti.....
- dro.....ria
- s.....letro
-pardo
- bac.....
- ma.....





- vas.....
- sirin.....
- mos.....
- lis.....
- al.....
- pan.....
- spa.....tti





CANCELLA LE PALLINE CHE DEVI TOGLIERE
ED ESEGUI LA SOTTRAZIONE COME NELL'ESEMPIO


9 - 3 = 6 


5 - 2 = 


8 - 5 = 

4 - 3 = 


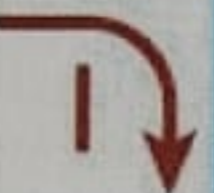
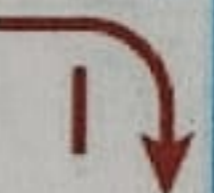



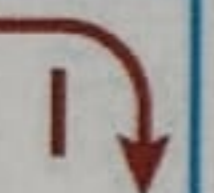

3 - 0 = 

9 - 6 = 

6 - 4 = 

8 - 8 = 

GUARDA L'ESEMPIO ED ESEGUI LA SOTTRAZIONE

	5		6		5		7
9	4	7		5		8	
	1		3		4		0
3		6		8		10	


NOME: _____

DATA: _____

Problemi con la sottrazione

- Risolvi i problemi scrivendo i numeri e le operazioni che mancano.


La madre di Luca ha comprato 6 uova e ne ha usate 2 per la cena. Quante uova sono rimaste?



- uova comprate
- uova utilizzate
- uova rimanenti

=

Un cuoco acquista 8 orate e ne cucina 5 per i suoi clienti. Quante orate sono rimaste?



- orate in tutto
- orate cucinate
- orate rimanenti

=

In una palestra ci sono 9 palloni: 4 sono palloni da calcio e gli altri da pallavolo. Quanti sono i palloni da pallavolo?



- palloni in tutto
- palloni da calcio
- palloni da pallavolo

=

NOME: _____ DATA: _____

LA LUNA

TITOLO DI UNA CANZONE SULLA LUNA ???

UN MODO DIRE ???

PROVERBIO: GOBBA A PONENTE LUNA?

GOBBA A LEVANTE LUNA?

OGNI QUANTI GIORNI C'E' LUNA PIENA???

QUANTE SONO LE FASI LUNARI???



NOME: _____

DATA: _____




Nome: _____


Data: _____

Fasi lunari - Foglio di lavoro


Ultimo
Quarto




Luna
Calante



Gibbosa
Calante




Luna
Nuova



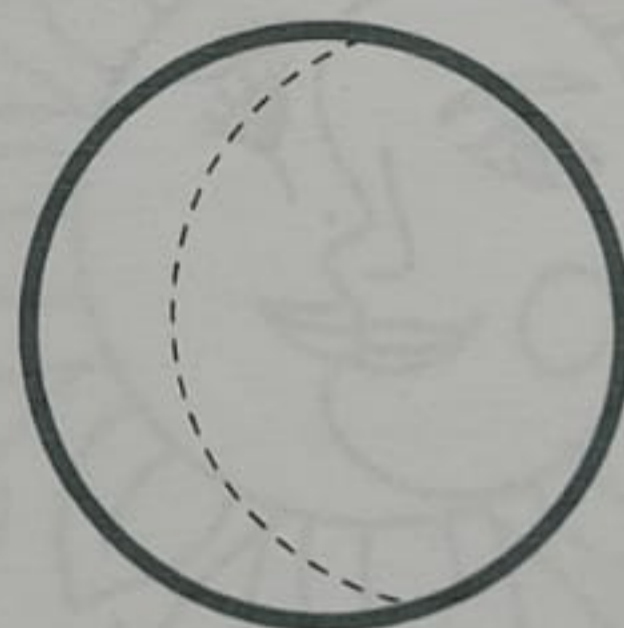
Luna
Piena



Luna
Crescente



Gibbosa
Crescente



Primo
Quarto

