

Colora il disegno. Guardalo bene. E' la lettera **N** iniziale del mese in cui siamo appena entrati che fa parte dell'Autunno. Il mese è... **N** _ _ _ _ _

RIPASSIAMO I NUMERI

1 Conta e scrivi il numero in cifre e in lettere.



2 Completa con il numero precedente e quello successivo.

.....	5	18	3	13
.....	6	11	10	19

3 Completa con i numeri come indicato.



Maggiori di 12 →

Minori di 8 →

Compresi tra 14 e 19 →

Maggiori di 5 e minori di 11 →

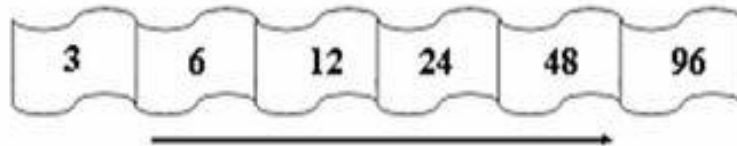
4 Completa e ripassa i numeri "amici" di 10.

$1 + \boxed{9} = 10$		$3 + \boxed{\quad} = 10$		$9 + \boxed{\quad} = 10$
$5 + \boxed{\quad} = 10$		$2 + \boxed{\quad} = 10$		$8 + \boxed{\quad} = 10$
$7 + \boxed{\quad} = 10$		$6 + \boxed{\quad} = 10$		$0 + \boxed{\quad} = 10$

Se incontri delle difficoltà o anche un po' di confusione dove son presenti molte figure insieme da contare prova ad organizzare delle strategie come ad esempio dividi in gruppi più piccoli l'insieme degli elementi.

QUAL E' LA REGOLA ?

Osserva questi numeri:



Qual è la regola per passare da un numero al successivo?

- A. Fai il doppio
 - B. Aggiungi tre
 - C. Aggiungi sei
-

Anna abita nella casetta con il numero coperto dalla macchia.

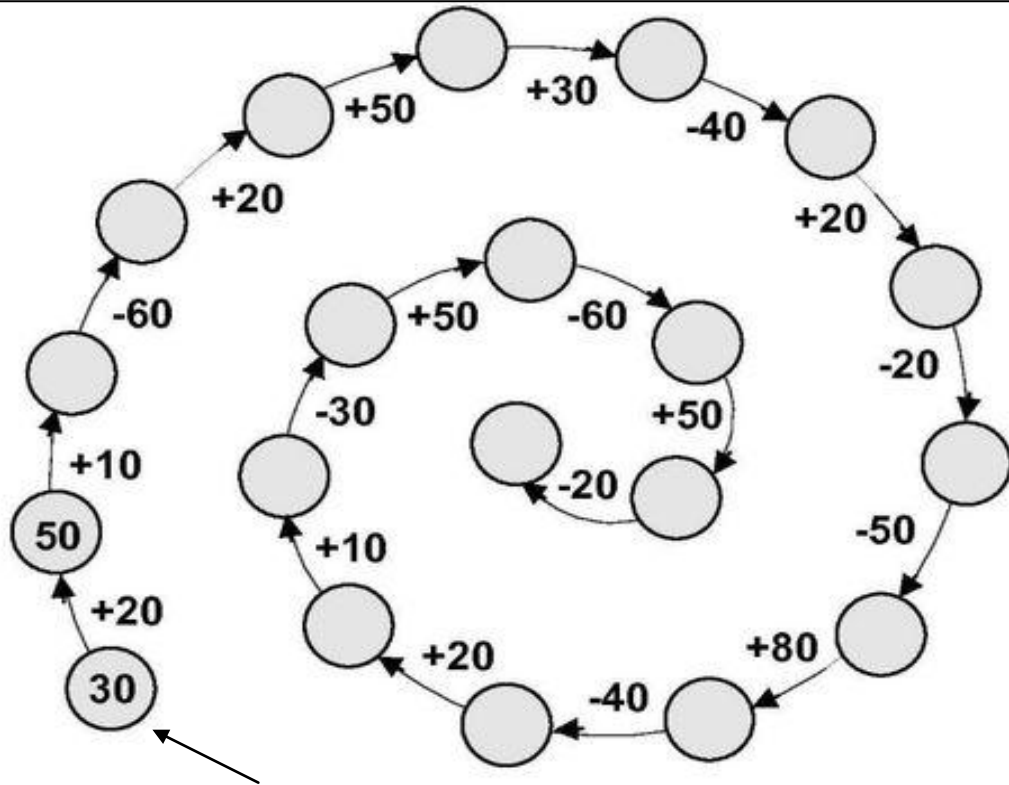


Scopri qual è la regola

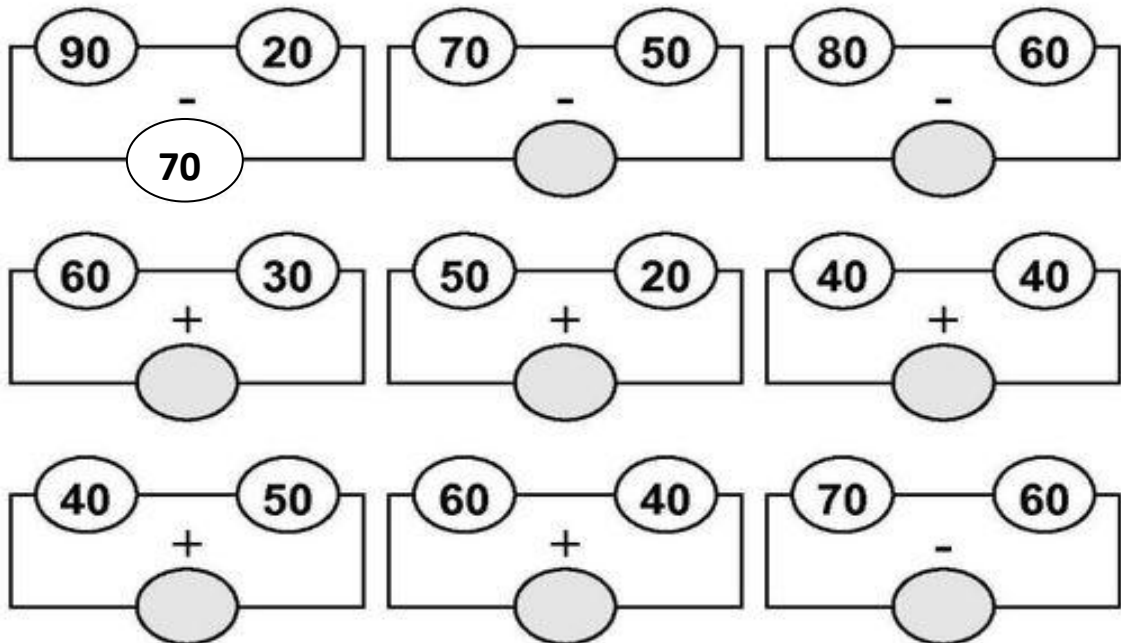
- A. - 3
- B. + 2
- C. - 2

Colora le caselle con i numeri creando una scala di colori:
dal più chiaro per i numeri bassi
al più scuro per i numeri alti.

Calcola seguendo le frecce del percorso come nell'esempio.



Calcola la cifra mancante in sottrazione o in addizione come nell'esempio.


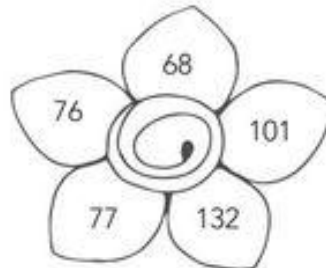



Nome e Cognome _____

Data _____

I NUMERI

Per ogni gruppo colora in azzurro il numero maggiore, in giallo il minore e gli altri come preferisci.



2 Completa.

Precedente		Successivo
	99	
	100	
	85	
	11	
	89	
	74	
	102	
	139	

3 Confronta e inserisci > < =.

trentadue 32

quarantuno cinquantuno

55 37

36 63



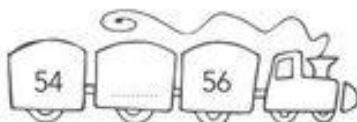


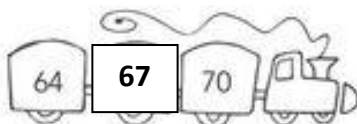
venticinque 26

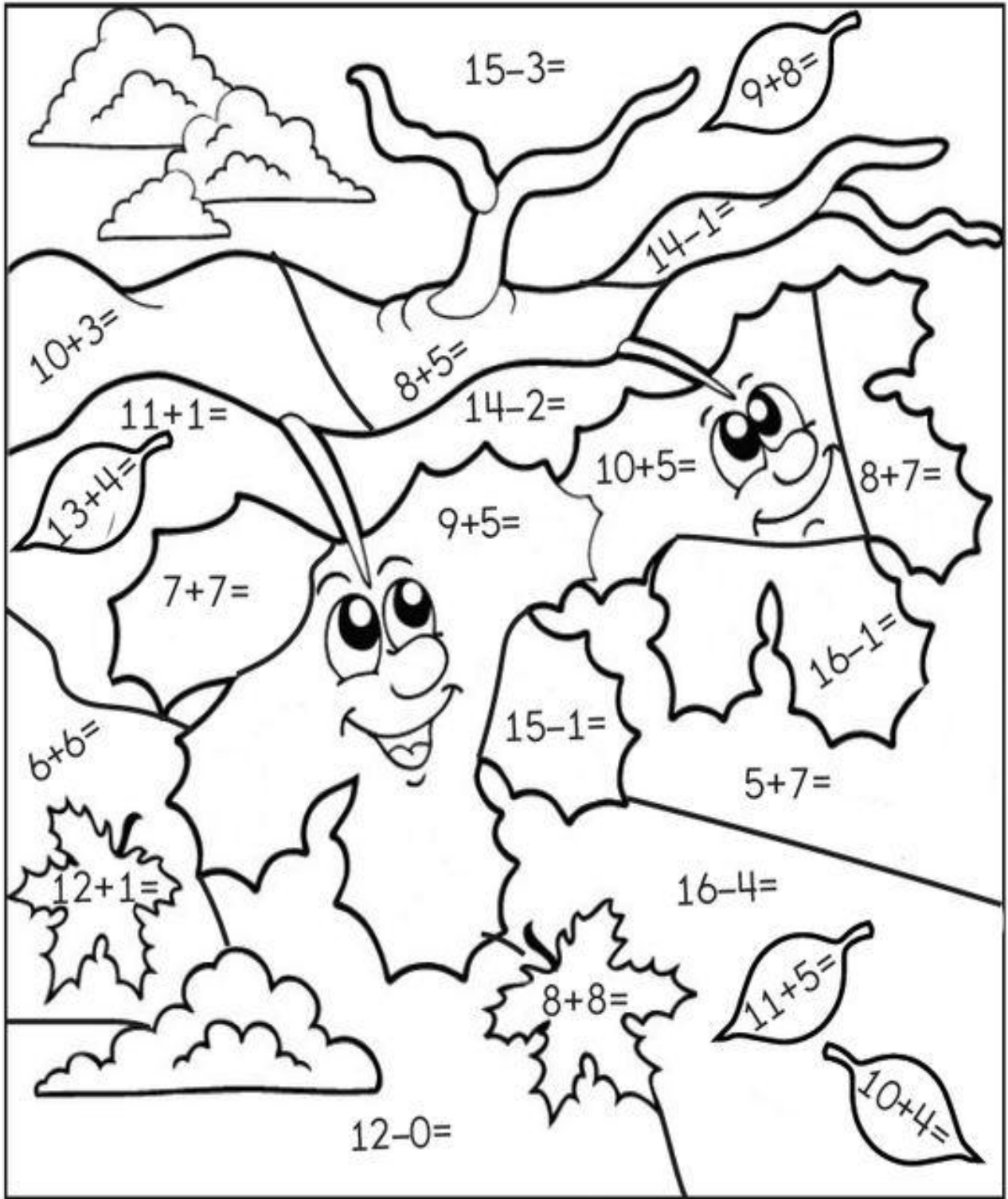
44 quarantaquattro

sedici 18

cinquanta quindici

4 In ogni trenino i numeri sono scritti in **ordine crescente**. Scrivi un numero adatto nelle caselle vuote.





Risolvi le operazioni e colora in base al risultato

12 = Blu

13 = Marrone

14 = Arancione

15 = Rosso

16 = Giallo

17 = Verde




**Se hai voglia facciamo un gioco:
prova a colorare in maniera fantasiosa questo disegno cioè utilizzando per ogni
elemento colori differenti da quelli che di solito li caratterizzano.**

MANDALA



In questo mandala ci sono figure differenti ma tutte riconducono ad un UNICO elemento protagonista dell' AUTUNNO. A cosa facciamo riferimento? Stiamo parlando delle _ _ _ _ _

MANDALA . .



. . D' AUTUNNO!